



**Chào Mừng các Thầy Cô giáo đến với lớp 2D**

**CHUYÊN ĐỀ**

**“Học thông qua chơi”**

**môn Toán**

**Giáo viên: Đỗ Thị Thảo Nguyễn**



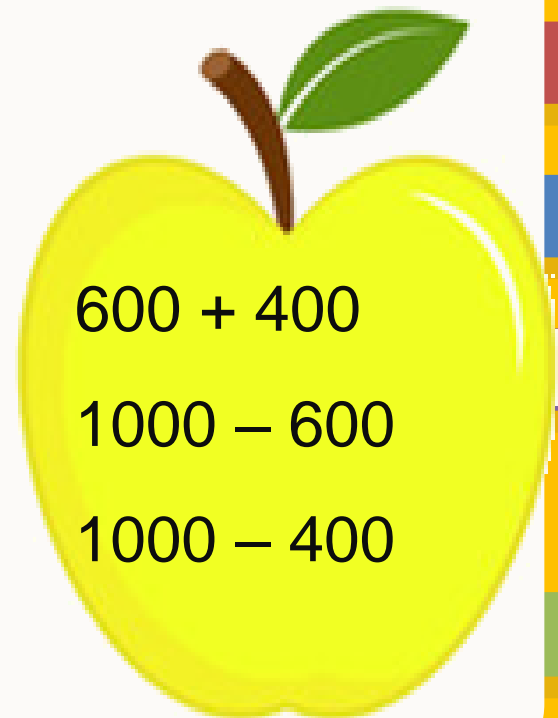
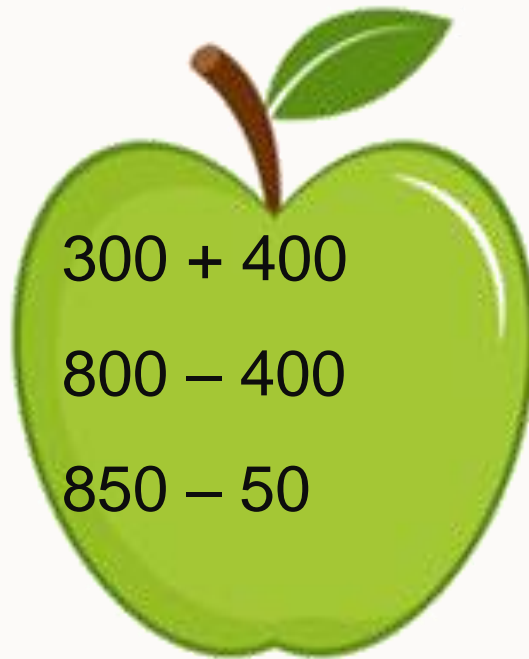
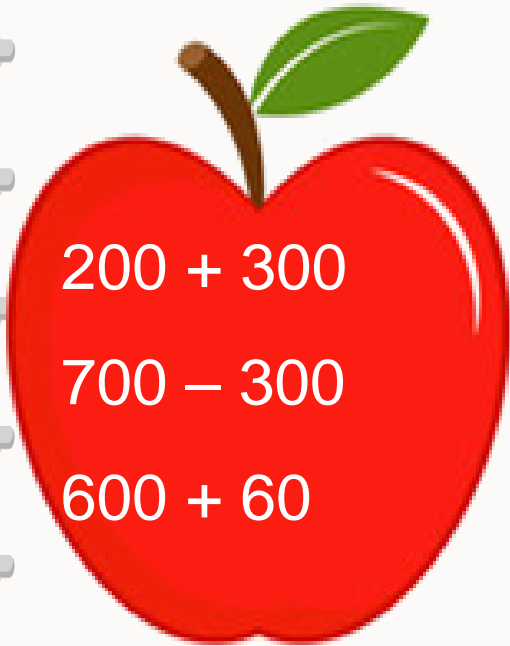
**Thứ năm ngày 21 tháng 04 năm 2023**

## **BÀI 70**

**ÔN TẬP PHÉP CỘNG, PHÉP  
TRỪ TRONG PHẠM VI 1000**



# 1 Tính nhẩm



**2** Đặt tính rồi tính.

a)  $435 + 352$

$236 + 528$

$354 + 63$

b)  $569 - 426$

$753 - 236$

$880 - 54$

KẾT NỐI TRI THỨC  
VỚI CUỘC SỐNG



3

Trong các phép tính dưới đây, những phép tính nào có kết quả bé hơn 400, những phép tính nào có kết quả lớn hơn 560?

400  
 $640 - 240$

562  
 $462 + 100$

389  
 $189 + 200$

600  
 $725 - 125$

560  
 $524 + 36$

270  
 $570 - 300$

4 Quan sát một số tuyến đường bộ trong hình vẽ.



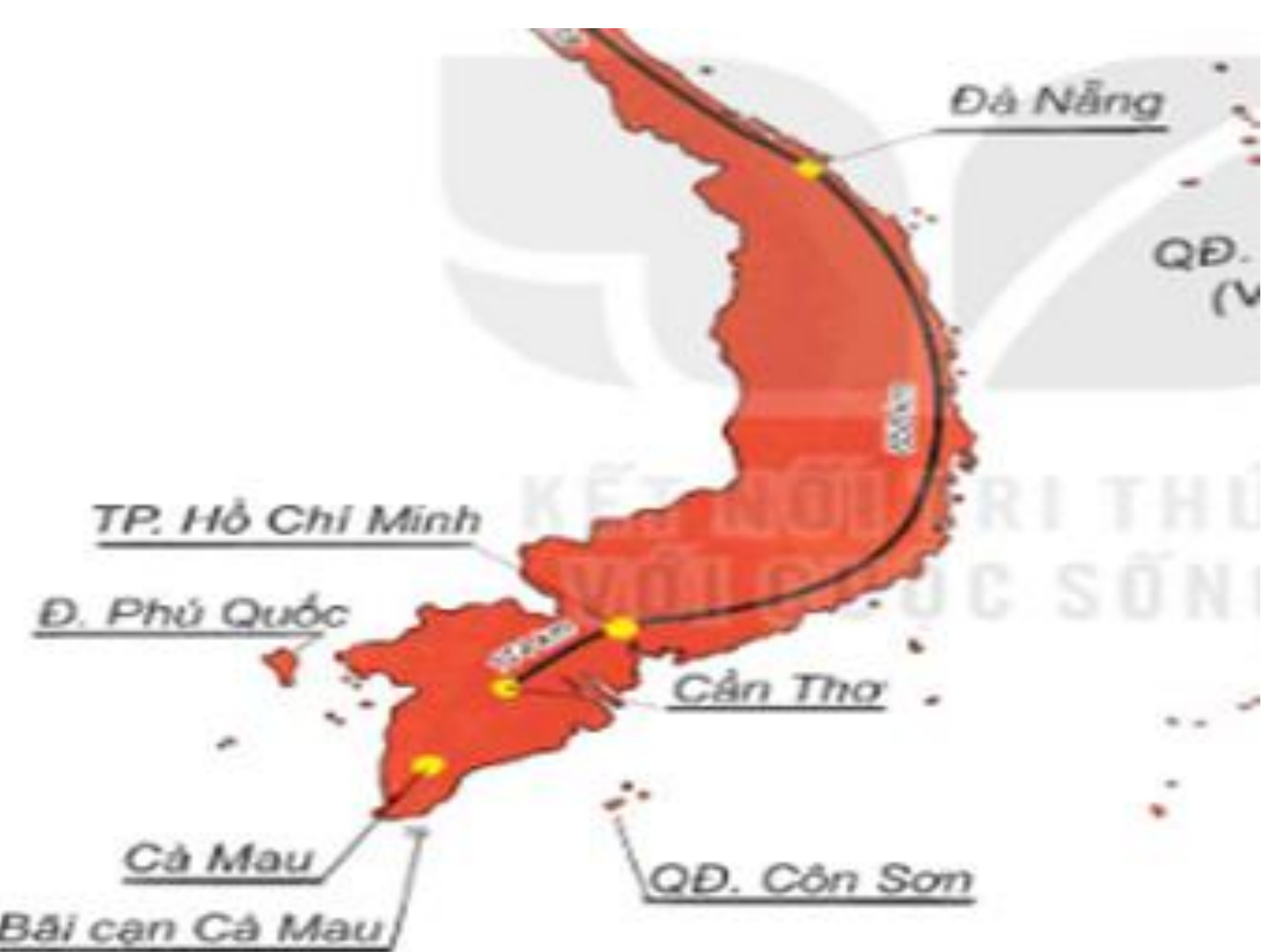
a) Cao Bằng và Vinh, nơi nào xa Hà Nội hơn?

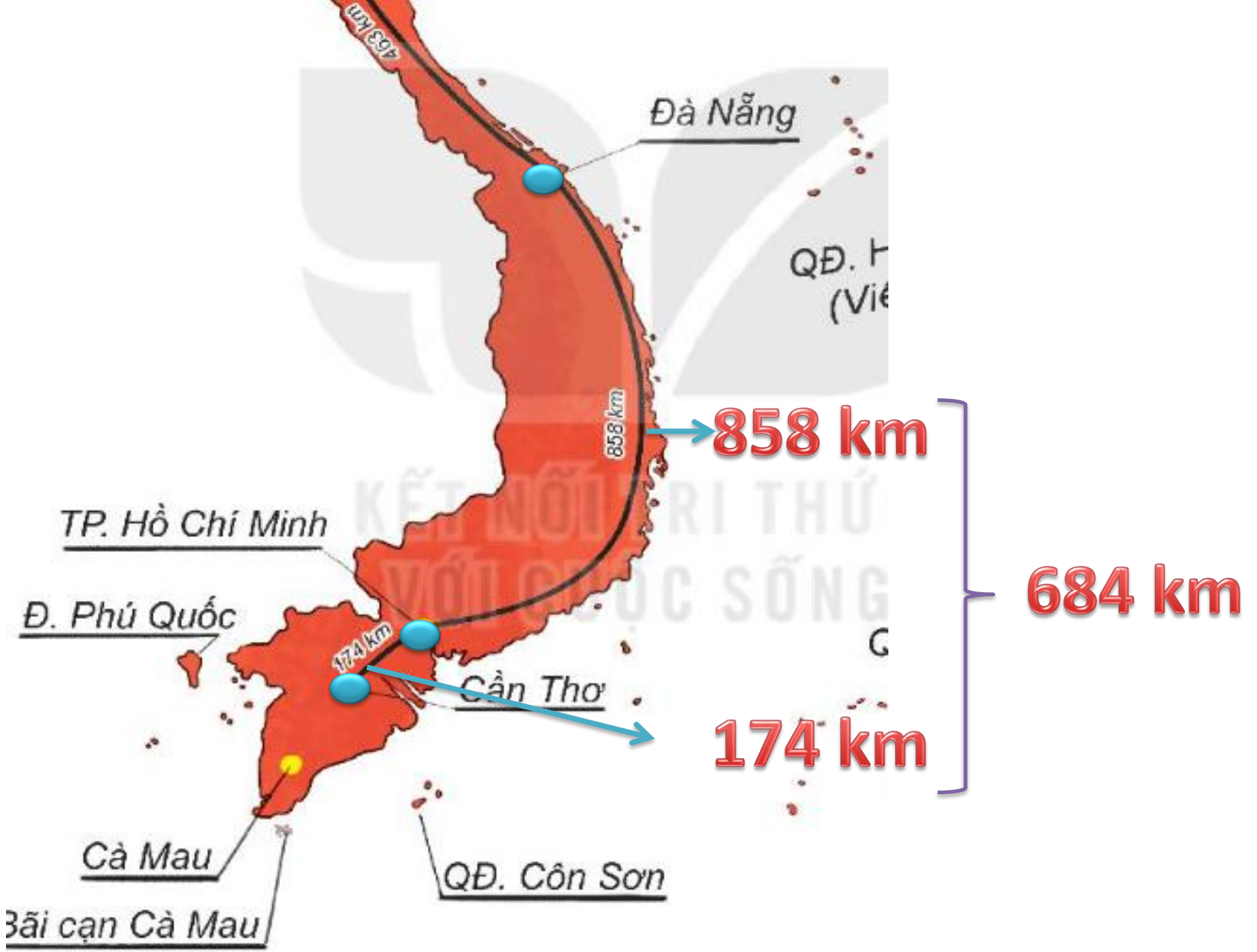
b) Quãng đường Hà Nội – Đà Nẵng (qua Vinh) dài bao nhiêu ki-lô-mét?











**Mời các bạn cùng xem một số hình ảnh đẹp của đất nước Việt Nam!**



MŨI  
CÀ MAU  
10°30' Vĩ độ Bắc  
104°43' Kinh Đông

# Biểu tượng Mũi Cà Mau

**THÁC BẢN BA**  
**DANH THẮNG QUỐC GIA**



*Thác Cùm - Thác Bản Ba*

# Giờ học kết thúc

Xin chân thành cảm ơn các thầy, cô giáo và các em học sinh.

